

DYK ŞUBAT AYI KAZANIM İZLEME TESTİ

10.



40 yolcusu bulunan bir şehirlerarası yolcu otobüsü Manisa'dan İstanbul'a giderken 4 farklı durakta yolcu indirip, yolcu alıyor.

Akhisar: 5 yolcu iniyor.

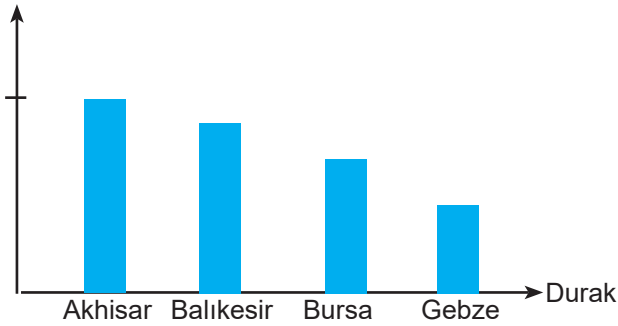
Balıkesir: 10 yolcu iniyor, 2 yolcu biniyor.

Bursa: 2 yolcu iniyor, 17 yolcu biniyor.

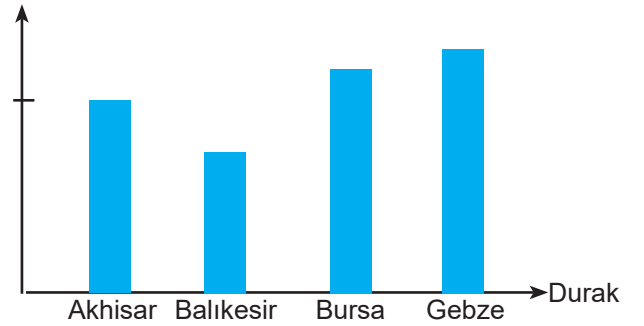
Gebze: 3 yolcu biniyor.

Buna göre otobüsün Akhisar'dan Gebze'ye kadar olan yol süresince yere yaptığı basıncın değişim grafiği aşağıdakilerden hangisi gibi olur?

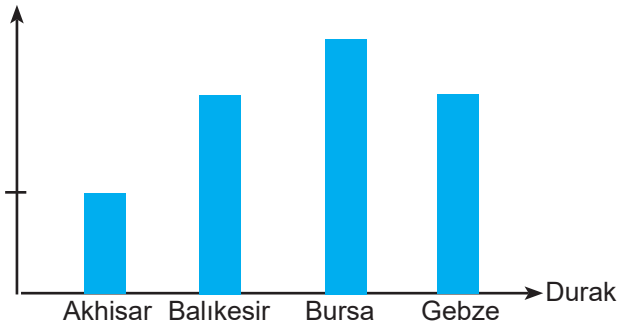
A) Basınc



B) Basınc



C) Basınc



D) Basınc

